



1. Carmen ha leído 7 libros de misterio y 5 libros de aventuras. ¿Cuántos libros ha leído en total?

Datos:	Operación:
--------	------------

Solución: _____

2. En la clase de Miguel hay 12 mesas cuadradas y 4 redondas. ¿Cuántas mesas hay en la clase?



Datos:	Operación:
--------	------------

Solución: _____

3. Hay 12 niños en un salón y 9 se van. ¿Cuántos niños quedan?

Datos:	Operación:
--------	------------

Solución: _____





4. Sofia ha comido seis ciruelas y su padre tres. ¿Cuántas ciruelas han comido entre los dos?

Datos:	Operación:
--------	------------

Solución: _____

5. En un árbol hay 14 pájaros y 8 se van volando. ¿Cuántos pájaros quedan en el árbol?

Datos:	Operación:
--------	------------




Solución: _____

6. En una mesa hay doce tortillas. Una persona se come cuatro. ¿Cuántas tortillas quedan?

Datos:	Operación:
--------	------------

Solución: _____





7. Gloria tiene trece frutas. Siete son melocotones y el resto son manzanas. ¿Cuántas manzanas tiene?

Datos:	Operación:
--------	------------

Solución: _____



8. La mamá de Javier compró 34 cucuruchos, pero 12 llegaron rotos. ¿Cuántos cucuruchos tiene para usar?

Datos:	Operación:
--------	------------

Solución: _____

9. Por la mañana llegaron a la escuela 8 cartas y por la tarde, llegaron 12. ¿Cuántas cartas llegaron hoy?

Datos:	Operación:
--------	------------



Solución: _____



10. En una panadería hay 25 barras de pan y se venden 12. ¿Cuántas barras quedan en la panadería?

Datos:	Operación:
--------	------------

Solución: _____

11. Marco jugaba a las figuritas. Tenía 18 y ganó 3. ¿Cuántas figuritas tiene ahora?



Datos:	Operación:
--------	------------

Solución: _____

12. Rita cambió figuritas repetidas en el recreo. De las 18 que tenía repetidas, ahora puede pegar 5 en el álbum. ¿Cuántas figuritas repetidas le quedan todavía?

Datos:	Operación:
--------	------------

Solución: _____





13. Juanjo llena 15 botellas de agua. Si da 5 a María, ¿Cuántas botellas le quedan?

Datos:	Operación:
--------	------------

Solución: _____

14. En un árbol hay 11 pájaros y llegan 13 más. ¿Cuántos pájaros hay en total?




Datos:	Operación:
--------	------------

Solución: _____

15. Carlos y Pedro tienen 26 libros. Si Pedro tiene 11 libros. ¿Cuántos libros tiene Carlos?

Datos:	Operación:
--------	------------



Solución: _____

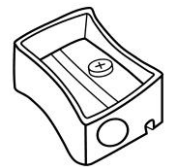


16. En un concurso de matemáticas se inscribieron hoy 23 personas. Si ya había 43 personas inscritas. ¿Cuántas personas participarán en el concurso?

Datos:	Operación:
--------	------------

Solución: _____

17. En un cubo pequeño hay 24 sacapuntas. Yasmina se encuentra 3 más y los guarda en el cubo pequeño. ¿Cuántos sacapuntas habrá dentro?



Datos:	Operación:
--------	------------

Solución: _____



18. En un cumpleaños hay quince niños y ocho niñas. ¿Cuántos niños más que niñas hay?

Datos:	Operación:
--------	------------

Solución: _____



19. En un concurso Juana sacó 5 puntos menos que Alexandra. Si Alexandra tiene 19 puntos. ¿Cuántos puntos tiene Juana?

Datos:	Operación:
--------	------------

Solución: _____

20. Si Joel saca seis canicas de un bote de cristal en el que había doce canicas, ¿Cuántas canicas hay ahora en el bote de cristal?



Datos:	Operación:
--------	------------

Solución: _____



21. Para construir una nave espacial, Adrián ha utilizado 34 piezas de madera y 45 de plástico. ¿Cuántas piezas ha utilizado en total?

Datos:	Operación:
--------	------------

Solución: _____

22. Si Jairo regala a Blanca 15 de sus 17 coches de juguete. ¿Cuántos coches tiene ahora?



Datos:	Operación:
--------	------------

Solución: _____



23. Para hacer este collage, Luisa tiene que pegar 87 piezas de fieltro. Si ya ha pegado 15. ¿Cuántas le quedan por pegar?

Datos:	Operación:
--------	------------

Solución: _____

24. En una bolsa hay 42 dulces. Un niño echa 17 dulces más. ¿Cuántos dulces hay en total?

Datos:	Operación:
--------	------------

Solución: _____





25. Laura y Alexey han recogido conchas en la playa. Laura ha encontrado 53 conchas y Alexey 22 menos. ¿Cuántas conchas ha encontrado Alexey?

Datos:	Operación:
--------	------------

Solución: _____



26. Lucas tiene 52 mazorcas para desgranar. Hoy desgrana 30. ¿Cuántas mazorcas le faltan por desgranar?

Datos:	Operación:
--------	------------

Solución: _____

27. En casa están 13 amigos. Más tarde llegan otros 15 más. ¿Cuántos amigos hay en total?

Datos:	Operación:
--------	------------

Solución: _____





28. En una habitación hay 33 sillas. Don Alberto trae 20 sillas más. ¿Cuántas sillas hay en total?

Datos:	Operación:

Solución: _____

29. Hay 47 patos en una laguna y 6 se salen. ¿Cuántos patos quedan en la laguna?



Datos:	Operación:

Solución: _____

30. Cristian y su prima Encarna tienen 75 y 22 barras de plastilina cada uno. ¿Cuántas tienen entre los dos?

Datos:	Operación:

Solución: _____





1. La maestra reparte 39 hojas de colores y tiene 28 alumnos, ¿Cuántas hojas le sobrarán?

Datos:	Operación:
--------	------------

Solución: _____

2. Un autobús lleva 45 pasajeros y en la primera parada se suben 32. ¿Cuántos pasajeros lleva ahora el autobús?

Datos:	Operación:
--------	------------

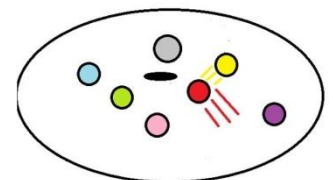
Solución: _____



3. ¿Cuántas canicas tengo en mi estantería si tenía 61 y Begoña pone 34 más?

Datos:	Operación:
--------	------------

Solución: _____



4. Mi hermano Nicolás ha sacado del cajón 26 cucharas pequeñas. Si antes había 78, ¿Cuántas cucharas pequeñas quedarán?



Datos:	Operación:
--------	------------

Solución: _____

5. El papá de Nora tiene 45 años y la mamá 34. ¿Cuántos años más tiene el papá que la mamá?



Datos:	Operación:
--------	------------

Solución: _____

6. En una tienda hay 23 mujeres, 12 hombres y 14 niños. ¿Cuántas personas hay?

Datos:	Operación:
--------	------------



Solución: _____



7. Durante el recreo, de los 28 alumnos, 16 deciden jugar con los aviones. ¿Cuántos no jugarán con los aviones?

Datos:	Operación:
--------	------------

Solución: _____

8. Un libro de aventuras tiene 72 páginas. Daniel leyó hasta la 31. ¿Cuántas páginas le faltan para terminarlo?




Datos:	Operación:
--------	------------

Solución: _____

9. En el cesto había 5 manzanas, 3 plátanos y 6 naranjas. ¿Cuántas frutas había?

Datos:	Operación:
--------	------------

Solución: _____





10. Una familia compra 28 botellas de leche al mes. Ya han tomado 12. ¿Cuántas botellas tienen todavía?

Datos:	Operación:
--------	------------

Solución: _____



11. En el grupo hay 38 niñas y 14 practican el fútbol. ¿Cuántas niñas no practican el fútbol?

Datos:	Operación:
--------	------------

Solución: _____

12. Federico tiene 2 perros, 8 peces y 3 gatos. ¿Cuántas mascotas tiene Federico?

Datos:	Operación:
--------	------------

Solución: _____





13. De 26 niñas, 15 tienen el pelo largo, ¿Cuántas niñas tienen el pelo corto?

Datos:	Operación:
--------	------------

Solución: _____

14. En la granja de Bruno hay 9 cerdos, 3 caballos y 4 vacas. ¿Cuántos animales hay en la granja?




Datos:	Operación:
--------	------------

Solución: _____

15. Una tarta de zanahoria tenía doce porciones y Gerardo se comió 3. ¿Cuántas porciones quedan?

Datos:	Operación:
--------	------------

Solución: _____





16. Estefanía tiene un estuche con 26 bolígrafos y otro con 13, ¿Cuántos bolígrafos tiene en total?

Datos:	Operación:
--------	------------

Solución: _____



17. En la primera cesta hay 52 limones y en la segunda hay 30, ¿Cuántos limones hay en la primera cesta más que en la segunda?

Datos:	Operación:
--------	------------

Solución: _____

18. En una enorme pecera vimos siete peces rojos, ocho peces amarillos y tres peces verdes. ¿Cuántos peces vimos?

Datos:	Operación:
--------	------------



Solución: _____



19. Pilar tiene 18 juguetes y Roberto tiene 11.
¿Cuántos juguetes tienen entre los dos?

Datos:	Operación:
--------	------------

Solución: _____

20. En la calle de Fernando hay 29 coches aparcados.
¿Cuántos coches quedan si se van 7?

Datos:	Operación:
--------	------------

Solución: _____

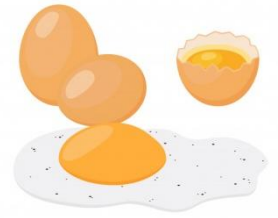


21. Mercedes tiene colección de calzado: 4 pares de sandalias, 6 pares de botas y 6 pares de playeras.
¿Cuánto calzado tiene?

Datos:	Operación:
--------	------------

Solución: _____





22. Valeria ha comprado seis huevos y dos se han roto. ¿Cuántos huevos le quedan?

Datos:	Operación:
--------	------------

Solución: _____



23. En una granja hay trece perros grandes y cinco perros pequeños. ¿Cuántos perros hay en total?

Datos:	Operación:
--------	------------

Solución: _____

24. Luz tiene 23 lazos y Celia tiene 4. ¿Cuántos lazos tienen entre las dos?

Datos:	Operación:
--------	------------

Solución: _____





25. Ángel tenía 56 flores en su jardín y ha plantado 41 más. ¿Cuántas flores tiene ahora?

Datos:	Operación:
--------	------------

Solución: _____

26. Zoe tiene en su frigorífico dieciocho batidos y ha sacado tres. ¿Cuántos batidos quedan en el frigorífico?




Datos:	Operación:
--------	------------

Solución: _____

27. Belén y sus amigos han preparado 35 bocadillos y se han comido 24. ¿Cuántos bocadillos quedan?

Datos:	Operación:
--------	------------



Solución: _____



28. Alejandra va a una biblioteca en la que hay 89 cuentos y ella se lleva 13. ¿Cuántos cuentos quedan en la biblioteca?

Datos:	Operación:
--------	------------

Solución: _____

29. Joaquín tiene pasión por el tenis. En su garaje tiene siete raquetas, en el salón tres y en el baño cinco. ¿Cuántas raquetas tiene Joaquín?



Datos:	Operación:
--------	------------


Solución: _____

30. Sergio colocó 11 teléfonos móviles encima de la mesa. Vino un ladrón y se llevó 7. ¿Cuántos móviles tiene ahora Sergio?



Datos:	Operación:
--------	------------


Solución: _____



1. Rubén y Miguel tienen dieciséis colores entre los dos. De Miguel son nueve colores. Los otros colores son de Rubén. ¿Cuántos colores son de Rubén?

Datos:	Operación:
--------	------------

Solución: _____



2. Beatriz tiene 50 cromos y su amiga Patricia tiene 30. ¿Cuántos cromos tienen entre las dos?

Datos:	Operación:
--------	------------

Solución: _____

3. Eva tiene 20 rotuladores, Maite tiene 10 y Roberto 30. ¿Cuántos rotuladores tienen entre los tres?



Datos:	Operación:
--------	------------

Solución: _____



4. Leopoldo tiene diecinueve chocolates. Evaristo tiene cinco chocolates. ¿Cuántos chocolates más tiene Leopoldo que Evaristo?

Datos:	Operación:
--------	------------

Solución: _____

5. En un árbol hay 27 ardillas y en otro diez menos. ¿Cuántas ardillas hay en el otro árbol?



Datos:	Operación:
--------	------------

Solución: _____

6. En un corral hay 32 gallinas y en otro hay 11. ¿Cuántas gallinas hay entre los dos corrales?

Datos:	Operación:
--------	------------

Solución: _____





7. Valvanuz tiene 85 céntimos y compra una bolsa de pipas de 35 céntimos. ¿Cuánto dinero le queda?

Datos:	Operación:
--------	------------

Solución: _____



8. En un autobús hay 54 asientos. Si hay sentadas 30 personas. ¿Cuántos asientos quedan aún libres?

Datos:	Operación:
--------	------------

Solución: _____

9. Montserrat pesa 13 kilos y Francisco pesa 26 kilos. ¿Cuántos kilos pesan entre los dos?

Datos:	Operación:
--------	------------

Solución: _____





10. Óscar compró una muñeca por doce euros, una raqueta por diez euros y una camiseta por seis euros. ¿Cuántos euros tuvo que pagar?

Datos:	Operación:
--------	------------

Solución: _____



11. Isabel fue a la floristería a comprar 8 rosas, 7 tulipanes y 9 girasoles. ¿Cuántas flores compró en total?

Datos:	Operación:
--------	------------

Solución: _____

12. Lara y Álvaro están en un parque de atracciones. Lara se ha montado 15 veces en la montaña rusa y Álvaro solo 7. ¿Cuántas veces más se ha subido Lara que Álvaro?



Datos:	Operación:
--------	------------

Solución: _____



13. Aroa tenía veintitrés caramelos y le dio once a Martina. ¿Cuántos caramelos le quedan a Aroa?

Datos:	Operación:
--------	------------

Solución: _____

14. Eduardo tiene 38 libros. Vera tiene 12 libros menos que Eduardo. ¿Cuántos libros tiene Vera?



Datos:	Operación:
--------	------------

Solución: _____

15. Arancho plantó 17 plantas. Ricardo plantó 5 plantas más que Arancho. ¿Cuántas plantas plantó Ricardo?

Datos:	Operación:
--------	------------

Solución: _____






16. Rocío tiene 43 cromos, Hugo tiene 22 cromos y Nacho tiene 31 cromos. ¿Cuántos cromos tienen entre los tres?

Datos:	Operación:
--------	------------

Solución: _____

17. Mónica pescó seis peces. José pescó tres peces más que Mónica. ¿Cuántos peces pescó José?




Datos:	Operación:
--------	------------

Solución: _____

18. Irene tenía ocho manzanas y gastó 3 para hacer un pastel. ¿Cuántas manzanas le sobran?

Datos:	Operación:
--------	------------



Solución: _____

19. En mi portaplápices hay 23 lápices verdes y 14 lápices rojos. ¿Cuántos lápices hay en total?



Datos:	Operación:
--------	------------

Solución: _____

20. Carmen tenía nueve barras para vender. Ha vendido cuatro. ¿Cuántas barras le sobran?



Datos:	Operación:
--------	------------

Solución: _____

21. Manuel tiene 13 libros de cuentos, 3 libros de terror y 2 de aventuras. ¿Cuántos libros tiene en total?

Datos:	Operación:
--------	------------

Solución: _____






22. Emma ha cazado 16 ramas y las ha metido en un bote pero al llegar a su casa solo encuentra 5 ramas en el bote. ¿Cuántas se le han escapado?

Datos:	Operación:
--------	------------

Solución: _____

23. Almudena tiene que hacer 38 ejercicios de matemáticas y ya ha hecho 11. ¿Cuántos ejercicios le quedan por hacer?



Datos:	Operación:
--------	------------

Solución: _____

24. Un zapatero reparó 13 zapatos por la mañana y 12 por la tarde. ¿Cuántos zapatos reparó?

Datos:	Operación:
--------	------------

Solución: _____





25. Un pizzero repartió 8 pizzas por la mañana y 14 por la tarde. ¿Cuántas pizzas repartió en total?

Datos:	Operación:
--------	------------

Solución: _____

26. Soledad saca por la mañana 14 juguetes de una caja y por la tarde saca otros 25. ¿Cuántos juguetes saca Soledad a lo largo del día?



Datos:	Operación:
--------	------------

Solución: _____

27. En la familia de Ismael hay 62 primos de los cuales 31 son mujeres. ¿Cuántos hombres hay?

Datos:	Operación:
--------	------------

Solución: _____





28. En clase de Ana hay 26 alumnos y en clase de Silvia hay 32 alumnos. ¿Cuántos alumnos hay entre las dos clases?

Datos:	Operación:
--------	------------

Solución: _____

29. En un baúl hay 65 libros y el papá de Omar saca 15 para leerlos. ¿Cuántos libros quedan en el baúl?



Datos:	Operación:
--------	------------

Solución: _____

30. Jorge tiene 11 caramelos y vuelve a la tienda de golosinas a comprar otros 22. ¿Cuántos caramelos tiene ahora?



Datos:	Operación:
--------	------------

Solución: _____



1. Iván tenía trece muñecas y en su cumpleaños le regalaron otras ocho. ¿Cuántas muñecas tiene ahora Iván?

Datos:	Operación:
--------	------------

Solución: _____

2. Ulises tiene 8 chapas y ha ganado 15 más. ¿Cuántas chapas tiene ahora Ulises?



Datos:	Operación:
--------	------------

Solución: _____

3. Mi padre tiene 47 años y mi hermano Jacobo tiene 15. ¿Cuántos años tiene mi padre más que Jacobo?

Datos:	Operación:
--------	------------

Solución: _____



4. Bernardo caminó 6 calles hasta el parque, 5 calles hasta la escuela y 7 calles hasta casa de su tío Alfredo. ¿Cuántas calles caminó en total?



Datos:	Operación:
--------	------------

Solución: _____

5. Magdalena ha ahorrado 45 euros para regalarle a su madre un ramo de flores que cuesta 21 euros. ¿Cuántos euros le sobrarán?



Datos:	Operación:
--------	------------

Solución: _____

6. En la escuela "Los revoltosos" hay 34 maestras y 21 maestros. ¿Cuántos maestr@ hay en total?



Datos:	Operación:
--------	------------

Solución: _____



7. En la familia de Elisabeth hay 48 primos de los cuales 25 son hombres. ¿Cuántas mujeres hay?

Datos:	Operación:
--------	------------

Solución: _____

8. En la clase de 1ºA hay 21 alumnos, en la de 1ºB hay 21 alumnos y en la de 1ºC hay 20 alumnos. ¿Cuántos alumnos de primero hay en total?



Datos:	Operación:
--------	------------

Solución: _____

9. En un bol hay 79 dulces. Si se sacan 24. ¿Cuántos dulces quedan en el bol?

Datos:	Operación:
--------	------------



Solución: _____



10. Julieta se comió cuatro chocolates, Gabriel cinco y Samuel seis. ¿Cuántos chocolates se comieron entre los tres?

<p>Datos:</p>	<p>Operación:</p>
---------------	-------------------

Solución: _____

11. Moisés tenía nueve bombones y se comió tres. ¿Cuántos bombones le quedan?



<p>Datos:</p>	<p>Operación:</p>
---------------	-------------------

Solución: _____

12. Raquel colecciona gomas de borrar. Su abuelo le regala 16 gomas y su abuela 13. ¿Cuántas gomas de borrar tiene Raquel ahora?

<p>Datos:</p>	<p>Operación:</p>
---------------	-------------------

Solución: _____





13. Carla tiene quince canicones y Antonio diecinueve canicones. ¿Cuántos canicones tiene Antonio más que Carla?

Datos:	Operación:
--------	------------

Solución: _____

14. Mi tía Felisa tenía en la cazuela once albóndigas y me sirvió tres. ¿Cuántas albóndigas le quedaron en la cazuela?




Datos:	Operación:
--------	------------

Solución: _____

15. En el frutero hay 8 mandarinas, 7 peras y 6 kiwis. ¿Cuánta fruta hay en el frutero?

Datos:	Operación:
--------	------------

Solución: _____



16. En un microbús viajan 19 pasajeros. Si en una parada suben 9 pasajeros más. ¿Cuántos pasajeros lleva ahora el microbús?



Datos:	Operación:
--------	------------

Solución: _____

17. Segismundo tenía 35 euros y gastó 13. ¿Cuántos euros le quedan a Segismundo?



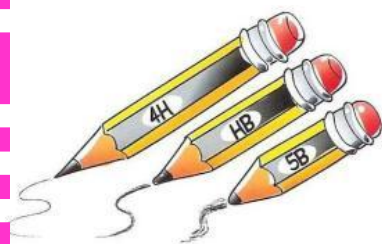
Datos:	Operación:
--------	------------

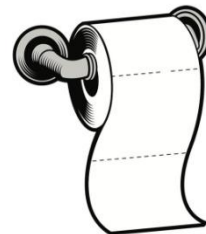
Solución: _____

18. Enrique tiene 19 lápices y regala 7 a un niño. ¿Cuántos lápices le quedan?

Datos:	Operación:
--------	------------

Solución: _____





19. Celeste compró 27 rollos de papel higiénico y ya ha usado 13 rollos. ¿Cuántos rollos de papel higiénico le quedan a Celeste?

Datos:	Operación:
--------	------------

Solución: _____

20. Me quedan por ver 37 minutos de una película. Si ya he visto 52 minutos. ¿Cuánto dura la película?



Datos:	Operación:
--------	------------

Solución: _____

21. En una huerta hay 43 manzanos y 56 cerezos. ¿Cuántos árboles frutales hay en la huerta?

Datos:	Operación:
--------	------------



Tree Collection



Designed by Freepik

Solución: _____



22. Mi padre tiene 45 años y mi madre tiene 42 años. ¿Cuántos años tienen entre los dos?

Datos:	Operación:
--------	------------

Solución: _____

23. Claudia ha recibido por su cumpleaños 24€ de sus abuelos y 35€ de sus padres. ¿Cuánto dinero ha recibido?



Datos:	Operación:
--------	------------

Solución: _____

24. Debajo de mi casa estamos jugando doce amigos y se van tres. ¿Cuántos continuamos jugando?

Datos:	Operación:
--------	------------



Solución: _____



25. En una bolsa grande de globos hay 70 y en una pequeña hay 25 globos. ¿Cuántos globos tendremos entre las dos bolsas?

Datos:	Operación:
--------	------------

Solución: _____

26. En mi aula hay 21 libros de animales y 38 libros de aventuras. ¿Cuántos libros podemos leer en el aula?



Datos:	Operación:
--------	------------

Solución: _____



27. Un albañil lleva 17 ladrillos en la carretilla y su ayudante 3 ladrillos menos, ¿Cuántos ladrillos lleva el ayudante?

Datos:	Operación:
--------	------------

Solución: _____

28. La granjera Dominga vende siete gallinas de las 19 que tiene. ¿Cuántas le quedan?



Datos:	Operación:
--------	------------

Solución: _____

29. En una granja hay 37 ovejas y 41 cerdos. ¿Cuántos animales viven en la granja?



Datos:	Operación:
--------	------------

Solución: _____

30. En una balda de la cocina hay 37 botellas y se rompen 5. ¿Cuántas botellas quedan?

Datos:	Operación:
--------	------------

Solución: _____





1. En una piscina están 73 personas, 41 tomando el sol y el resto en el agua. ¿Cuántas personas están en el agua?

Datos:	Operación:
--------	------------

Solución: _____

2. Elena tiene 37 cromos de una colección y su primo Aarón 52. ¿Cuántos cromos tendrán si los juntan?



Datos:	Operación:
--------	------------

Solución: _____

3. En un huerto se han recogido 69 kilos de peras. Si se han estropeado 14 kilos, ¿Cuántos kilos de peras quedan?

Datos:	Operación:
--------	------------

Solución: _____



4. En un autobús viajan 47 personas. Si en la primera parada se bajan 25. ¿Cuántas personas continúan el trayecto?



Datos:	Operación:
--------	------------

Solución: _____

5. En un rally participan 62 coches. Al final llegan a la meta 51 coches. ¿Cuántos coches no han llegado a meta?



Datos:	Operación:
--------	------------

Solución: _____

6. En una pradería hay pastando 15 ovejas y 74 vacas. ¿Cuántos animales están pastando?

Datos:	Operación:
--------	------------



Solución: _____

7. En un panal hay 56 abejas y se van 14.
¿Cuántas abejas quedan en el panal?



Datos:	Operación:
--------	------------

Solución: _____

8. Claudia tiene 35 pegatinas de animales. Su abuelo le regala 12 pegatinas de plantas y 23 de animales. ¿Cuántas pegatinas de animales tiene ahora Claudia?



Datos:	Operación:
--------	------------

Solución: _____


9. Un padre tiene 47 años y su hijo 32 años menos. ¿Qué edad tiene el hijo?

Datos:	Operación:
--------	------------

Solución: _____



10. Una caja de cartón tiene 36 huevos. Se cae al suelo y se rompen 25 huevos. ¿Cuántos huevos siguen enteros?



Datos:	Operación:
--------	------------

Solución: _____

11. A una boda acuden 46 hombres y 33 mujeres. ¿Cuántas personas asisten a la boda?




Datos:	Operación:
--------	------------

Solución: _____

12. Los 42 alumnos de 1º vamos de excursión en un autobús de 56 plazas. ¿Cuántas plazas irán vacías?

Datos:	Operación:
--------	------------

Solución: _____





13. En un aeropuerto aterrizan cada día 75 aviones que vienen de Valencia o Barcelona. ¿Cuántos vienen de Valencia si 25 proceden de Barcelona?

Datos:	Operación:
--------	------------

Solución: _____

14. Rufino ha colocado 17 piezas de un puzle que tiene 48 piezas. ¿Cuántas piezas les quedan por colocar?



Datos:	Operación:
--------	------------


Solución: _____



15. A un espectáculo asisten 81 mujeres y 16 hombres. ¿Cuántas personas vieron el espectáculo?

Datos:	Operación:
--------	------------

Solución: _____



16. Una carretilla cargada de melones pesa 88 kilos. La carretilla vacía pesa 12 kilos. ¿Cuántos kilos pesan los melones?

Datos:	Operación:
--------	------------

Solución: _____

17. El día 28 de marzo nos vamos de vacaciones. Hoy es día 12 de marzo. ¿Cuántos días faltan para ir de vacaciones?



Datos:	Operación:
--------	------------

Solución: _____

18. En un aparcamiento caben 97 coches. Hay aparcados 43 coches. ¿Cuántas plazas libres quedan?

Datos:	Operación:
--------	------------

Solución: _____





19. En una caja tengo 44 fichas. ¿Cuántas tengo que añadir para tener 78 fichas?

Datos:	Operación:
--------	------------

Solución: _____

20. En el frigorífico hay 30 yogures de plátano y 46 de fresa. ¿Cuántos yogures hay en el frigorífico?



Datos:	Operación:
--------	------------

Solución: _____

21. En un puerto hay 41 veleros y 27 pesqueros. ¿Cuántos barcos hay en total?

Datos:	Operación:
--------	------------



Solución: _____



22. Una tienda tiene para vender 30 abrigos de paño y 48 abrigos de lana. ¿Cuántos abrigos hay en la tienda?

Datos:	Operación:
--------	------------

Solución: _____

23. La banda municipal del pueblo está compuesta por 36 tambores y 41 trompetas. ¿Cuántas personas tocan en la banda?



Datos:	Operación:
--------	------------

Solución: _____

24. Un barco pesquero ha capturado 45 besugos y 58 pulpos. ¿Cuántos besugos menos que pulpos ha capturado?

Datos:	Operación:
--------	------------



Solución: _____

25. Una paraguitería vende 17 paraguas de hombres y 42 paraguas de mujer. ¿Cuántos paraguas ha vendido en total?



Datos:	Operación:
--------	------------

Solución: _____

26. En un cesto había ocho kilos de manzanas y en otro once kilos. ¿Cuántos kilos pesaban todas las manzanas?




Datos:	Operación:
--------	------------

Solución: _____

27. Un libro tiene 99 páginas. Si me he leído 47. ¿Cuántas páginas me quedan para acabarlo?

Datos:	Operación:
--------	------------



Solución: _____



28. De un árbol se han cogido 42 kilos de cerezas y de otro 45. ¿Cuántos kilos de cerezas tendremos en total?

Datos:	Operación:
--------	------------

Solución: _____



29. En una carrera de fórmula 1 hay que dar 79 vueltas a la pista. ¿Cuántas vueltas le quedarán a un coche que lleva dando 52 vueltas?

Datos:	Operación:
--------	------------

Solución: _____

30. En un colegio, de 68 alumnos, 42 no practican judo. ¿Cuántos alumnos sí practican judo?



Datos:	Operación:
--------	------------

Solución: _____



1. Mariola se ha comprado un juguete por 52€ y una muñeca por 27€. ¿Cuánto dinero se ha gastado Mariola?

Datos:	Operación:
--------	------------

Solución: _____

2. En el depósito de gasolina de un coche caben 67 litros. En un viaje gasta 53 litros. ¿Cuántos litros quedan en el depósito?



Datos:	Operación:
--------	------------

Solución: _____

3. Para equipar a la selección de baloncesto se necesitan 23 chaquetas, 23 pantalones largos y 23 pantalones cortos. ¿Cuántas prendas hay que comprar?

Datos:	Operación:
--------	------------

Solución: _____





4. En una madriguera viven 17 conejos y en otra 32.
¿Cuántos conejos hay en total?

Datos:	Operación:
--------	------------

Solución: _____

5. A lo largo de un día, atraviesan un río 94 ñúes, de los cuales 61 son hembras. ¿Cuántos machos han pasado el río?




Datos:	Operación:
--------	------------

Solución: _____

6. En el museo toledano, se exponen 83 obras de arte. Hay 52 esculturas y el resto son cuadros. ¿Cuántos cuadros hay en el museo?

Datos:	Operación:
--------	------------



Solución: _____



7. En mi clase somos 15 niñas y 14 niños.
¿Cuántos niños somos en total?

Datos:	Operación:
--------	------------

Solución: _____

8. Un restaurante tiene 22 helados para los postres. Hoy han pedido helado 49 clientes.
¿Cuántos clientes no han podido comer helado?



Datos:	Operación:
--------	------------


Solución: _____

9. En un cesto hay 47 huevos. La granjera vende 13.
¿Cuántos huevos quedan en el cesto?

Datos:	Operación:
--------	------------

Solución: _____





10. Mi padre tiene 32 años, mi madre 30 y yo 7.
¿Cuántos años tenemos entre los tres?

Datos:	Operación:
--------	------------

Solución: _____

11. En una piscina hay bañándose 54 personas.
Si salen 22 del agua. ¿Cuántos quedan dentro?




Datos:	Operación:
--------	------------

Solución: _____

12. En un rosal hay catorce rosas. El viento rompe 8.
¿Cuántas rosas quedan?

Datos:	Operación:
--------	------------



Solución: _____



13. En clase estamos 14 niñas y 10 niños. ¿Cuántas niñas más que niños hay?

Datos:	Operación:
--------	------------

Solución: _____



14. Santiago tiene siete globos y explotan tres. ¿Cuántos globos quedan inflados?

Datos:	Operación:
--------	------------

Solución: _____

15. Clemente tiene ocho años. ¿Cuántos tendrá dentro de seis años?

Datos:	Operación:
--------	------------

Solución: _____





16. Casilda ha caminado 14 kilómetros en la primera hora y 15 kilómetros en la segunda. ¿Cuántos kilómetros ha caminado en total?

Datos:	Operación:
--------	------------

Solución: _____

17. El equipo de los tigres ha marcado 17 puntos y el de los unicornios 28 puntos. ¿Cuántos puntos más marcaron los unicornios que los tigres?



Datos:	Operación:
--------	------------


Solución: _____

18. En el parque "Los chopos" hay 16 árboles. Plantamos 12 en primavera. ¿Cuántos árboles habrá ahora?



Datos:	Operación:
--------	------------

Solución: _____



19. Julián tiene una cuerda que mide 18 metros. Si le corta 8 metros. ¿Cuántos metros de cuerda quedan?

Datos:	Operación:
--------	------------

Solución: _____



20. En el equipo de atletismo somos 21 atletas. Han faltado a entrenar 4. ¿Cuántos atletas hemos entrenado?

Datos:	Operación:
--------	------------

Solución: _____

21. En la frutería de Nuria tienen 23 kilos de naranjas y 36 kilos de manzanas. ¿Cuántos kilos de fruta hay?

Datos:	Operación:
--------	------------

Solución: _____





22. Dionisio tiene veinticuatro libros en su estantería y debajo de la cama tiene otros trece libros. ¿Cuántos libros tiene en total?

Datos:	Operación:
--------	------------

Solución: _____

23. Teodora ha metido 31 canastas. Su amigo Calisto 17. ¿Cuántas canastas han encestado entre los dos?



Datos:	Operación:
--------	------------

Solución: _____

24. Epifanio tiene 39 años y su hermano Agapito, 24. ¿Cuántos años tiene Epifanio más que Agapito?

Datos:	Operación:
--------	------------



Solución: _____



25. En una granja hay 74 vacas y han nacido 23 más. ¿Cuántas vacas hay en total?

Datos:	Operación:

Solución: _____

26. Anselmo lleva en una cesta 68 avellanas y 24 nueces. Si se come 36 avellanas. ¿Cuántas avellanas le quedan?




Datos:	Operación:

Solución: _____

27. El edificio de Gisela tiene catorce pisos y va por el piso seis. ¿Cuántos pisos le quedan por subir a Gisela?

Datos:	Operación:

Solución: _____





28. En una piscina hay 63 bañistas dentro del agua y 23 tomando el sol. ¿Cuántas personas hay en total?

Datos:	Operación:
--------	------------

Solución: _____

29. La frutera ha comprado 87 kilos de fresas y 13 kilos menos de limones. ¿Cuántos kilos de limones ha recibido?



Datos:	Operación:
--------	------------

Solución: _____

30. Úrsula ha ido con su hermano Gregorio a contar barcos veleros. Han visto 23 veleros rojos, 14 amarillos y 22 azules. ¿Cuántos veleros han contado al final?

Datos:	Operación:
--------	------------



Solución: _____