

1

Nombre y apellidos:

Fecha:

Ciencias Sociales 5.º

- 1 La Tierra tiene un solo satélite, la Luna. Pero otros planetas del sistema solar tienen muchos más. ¿Cuántos satélites tiene Júpiter?

.....

- 2 ¿Qué orientación tiene tu clase? Comprueba si las ventanas dan al este, oeste, norte o sur. Dibuja el plano de tu clase con las marcas de orientación.

- 3 El Sol está compuesto por gases. Los dos principales tienen un nombre que empieza por «h». Primero, investiga en Internet, y después, búscalos en la sopa de letras. También encontrarás cinco elementos químicos más que están presentes en el Sol en pequeñas cantidades.

N	H	I	D	R	O	G	E	N	O	M
E	I	V	N	B	E	E	E	S	X	A
Ó	H	I	E	R	R	O	H	T	I	Ñ
N	E	D	R	O	S	F	I	R	G	T
A	L	M	O	S	F	E	E	A	E	E
N	I	T	R	O	G	E	N	O	N	M
V	O	S	D	E	R	U	R	U	O	L
C	A	R	B	O	N	O	E	O	B	H

- 4 El núcleo de la Tierra, que es su capa más profunda, está compuesto por dos metales. Investiga cuáles son.

.....

- 5 Algunos asteroides pequeños llegan a la Tierra y cuando se desintegran en la atmósfera, los vemos como una estela que cruza el cielo. ¿Cómo se les llama entonces?

.....

- 6 Investiga sobre la carrera espacial y contesta a las preguntas.

a) ¿En qué consistió la carrera espacial?

.....

b) ¿Averigua qué fue el Sputnik 1?

.....


c) ¿Cuándo y quiénes fueron el primer hombre y la primera mujer en llegar al espacio?

.....

d) ¿En qué consistió y cuándo se realizó la misión Apolo 11 y quién fue su comandante?

.....

- 7 Observa los dibujos de los eclipses y responde a las preguntas.



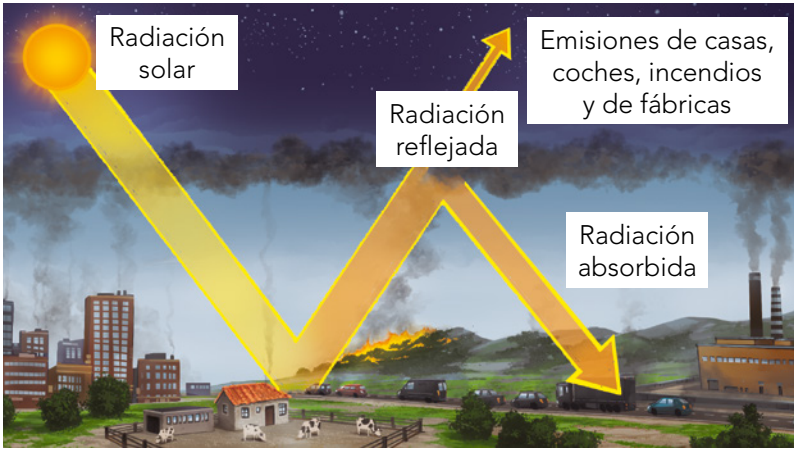
a) ¿Qué astro está en el centro en un eclipse lunar?

b) ¿Qué astro está en el centro en un eclipse solar?

c) ¿Cómo vemos nosotros el Sol en un eclipse solar?

d) ¿Cómo vemos nosotros la Luna en un eclipse lunar?

1 Explica qué fenómeno se muestra en la imagen y las causas que lo producen.



.....

.....

.....

.....

.....

.....

.....

2 Busca información sobre la capa de ozono y explica qué pasaría si no existiera esta capa.

.....

.....

.....

3 Relaciona con flechas las capas de la atmósfera con sus características.

- | | |
|----------------|---|
| Exosfera • | • Contiene la ozonoesfera. |
| Estratosfera • | • Está en contacto con la superficie terrestre. |
| Troposfera • | • Capa donde se dan las estrellas fugaces. |
| Termosfera • | • En ella se producen las auroras boreales. |
| Mesosfera • | • Es la capa más extensa y en ella el aire es irrespirable. |

4 Explica qué es la meteorología.

.....

.....

.....

5 Busca en Internet las precipitaciones anuales y las temperaturas máxima y mínima de este año de tu comunidad autónoma.

.....

6 Completa las siguientes frases.

a) La es el peso del aire sobre un punto de la superficie. El es el aparato que la mide.

b) El clima continental se caracteriza por temperaturas, precipitaciones y bosques de y pinos.

7 Colorea de verde la España húmeda o zona donde se producen abundantes precipitaciones, y de marrón la zona con precipitaciones anuales escasas o España seca. ¿A qué tipo de clima corresponde?

España húmeda:

.....

España seca:

.....



8 Observa la imagen y escribe a qué tipo de clima corresponde y sus características.



.....
.....
.....
.....
.....
.....
.....

9 Describe un problema medioambiental y alguna medida para paliarlo.

.....
.....
.....
.....

- 1 Fíjate en los datos de la tabla y escribe positivo o negativo según corresponda a los años en los que el crecimiento natural de esta población ficticia haya sido positivo o negativo.

Año	2006	2007	2008	2009	2010	2011	2012	2013	2014
N.º de nacimientos	1056	1022	1102	1134	1004	989	1116	997	890
N.º de fallecimientos	890	900	995	1078	983	1045	1098	999	930
Crecimiento natural									

- 2 Lee el siguiente texto y responde a las preguntas.

Muchas personas hoy dejan su país en busca de oportunidades de empleo o educación, otras tratan de reunirse con sus familiares, sin embargo, hay personas que no pueden elegir y están obligadas a dejar su hogar por causa de conflictos, persecución o violencia generalizada. Migrantes y refugiados frecuentemente viajan lado a lado, usando las mismas rutas y medios de transporte. Cuando no hay ningún otro medio, usan los servicios de traficantes de personas... Estos viajes ocurren a menudo en condiciones inhumanas y muchos no sobreviven.

Fuente: www.acnur.org/que-hace-acnur/asilo-migracion/

- a) Según el texto, ¿por qué emigran las personas?

.....

.....

- b) Investiga en Internet y explica la diferencia entre migrante y refugiado.

.....

.....

.....

- c) Explica qué ha ocurrido respecto a las migraciones en nuestro país desde 1995.

.....

.....

.....

.....

.....

3 Observa la gráfica y contesta estas preguntas.

a) Define «esperanza de vida»:

.....

.....

.....

b) ¿Qué diferencia de años hay en hombres y en mujeres en la esperanza de vida al nacer en 1900 y en 2011?

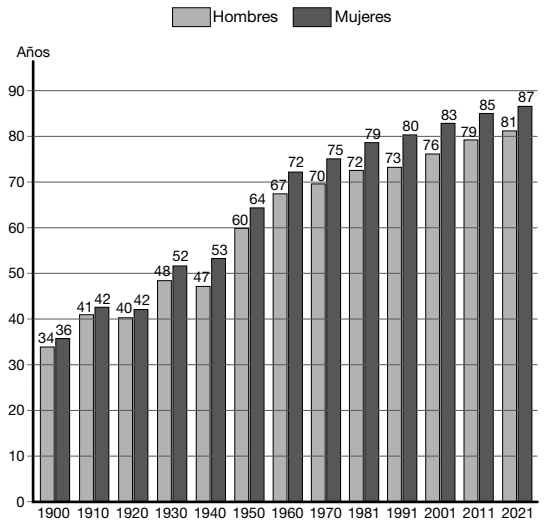
.....

c) ¿Por qué crees que hay tanta diferencia?

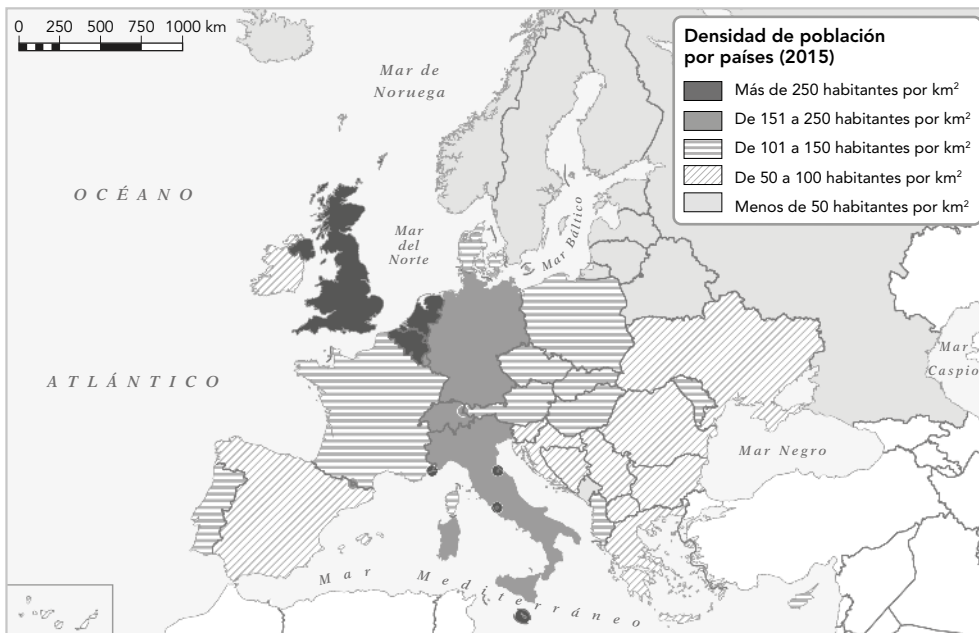
.....

.....

ESPERANZA DE VIDA AL NACER. 1900-2021



4 Observa el mapa de densidad de población de Europa y contesta a las preguntas.



a) ¿Qué zonas de Europa están más densamente pobladas?

.....

b) ¿Cuáles son las zonas más despobladas de Europa?

.....

1 Completa las siguientes afirmaciones con las palabras clave y contesta a las preguntas: veintiocho, igualdad, directivos, desempleo, América, Unión Europea, tiempo, salarios, emigra.

a) En España el índice de es muy alto. Por ello y por el difícil acceso al primer empleo, parte de la juventud española en busca de empleo a otros países de la Unión Europea y a

Busca en Internet la última tasa de paro publicada:

b) Aunque la mujer se ha incorporado al mundo del trabajo fuera del hogar, todavía falta conseguir una entre hombres y mujeres. Estas perciben inferiores, dedican más a los trabajos del hogar y ocupan menos puestos

Investiga y escribe el significado de brecha salarial de género:

c) La es una asociación de países de Europa que colaboran en su economía y en sus políticas para mejorar la vida de la ciudadanía.

Cita las 3 ventajas de la ciudadanía de la UE:

2 Colorea de azul los países miembros de la Unión Europea.



- 3 Averigua qué seis países firmaron el Tratado de Roma, que supuso la creación de la Comunidad Económica Europea (CEE) y la actual Unión Europea.

.....

.....

- 4 Escribe todo lo que sepas sobre los símbolos de tu comunidad autónoma.

.....

.....

.....

.....

.....

- 5 Observa el mapa y explica el relieve de Europa.



.....

.....

.....

.....

.....

.....

1 Resuelve estas cuestiones.

- Dibuja una flecha roja que indique por dónde llegaron los bárbaros.
- Dibuja una flecha azul que indique por dónde llegaron los musulmanes.
- ¿Por qué crees que los musulmanes llegaron por ese lugar y no por otro?



2 Cristianos y musulmanes. Busca cinco palabras relacionadas en cada sopa de letras.

Musulmanes:

Cristianos:

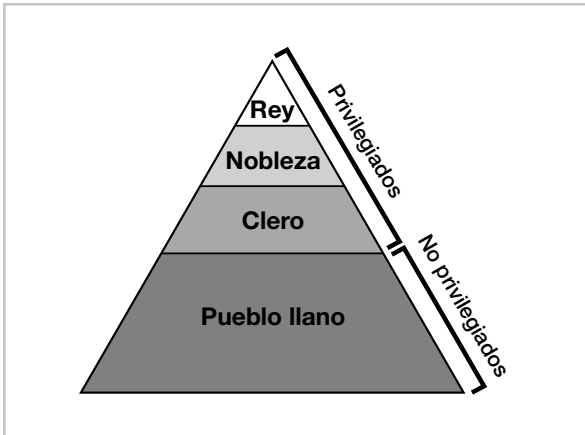
Musulmanes

F	O	U	T	O	C	S	M
D	S	B	A	A	E	O	U
C	A	L	I	F	A	T	O
I	A	B	F	Q	S	A	E
M	M	R	A	M	D	R	B
S	E	V	S	O	I	I	I
P	D	C	S	A	A	M	K
O	I	T	W	X	A	E	L
A	N	T	Y	X	Z	P	N
R	A	M	A	D	A	N	M

Cristianos

E	V	U	T	O	C	S	B
S	O	B	A	A	E	U	U
T	N	M	I	F	R	T	R
A	I	O	F	G	S	A	G
M	M	Z	B	M	D	R	U
E	N	A	S	L	I	I	E
N	A	R	S	A	E	M	S
T	M	A	W	X	A	Z	I
O	O	B	Y	X	Z	P	A
R	R	E	A	D	A	N	M

3 Observa y comenta esta pirámide de la sociedad medieval formada por estamentos. ¿Cuáles eran? ¿Quiénes los formaban? ¿Se podía pasar de uno a otro estamento?



.....

.....

.....

.....

.....

.....

4 Investiga y descubre el nombre de cada una de las partes señaladas en la catedral gótica.




.....

.....

.....

.....



5 ¿Sitúa en la línea del tiempo cada edad de la historia, completa las fechas que faltan y los acontecimientos con los que se inicia cada edad.

200000 a. C. 5000 a. C. d. C. d. C. 1789 d. C. Actualidad

.....
.....


1 Busca estas seis palabras relacionadas con los descubrimientos.

- Almirante
- Astrolabio
- Aztecas
- Brújula
- Carabela
- Colonias

A	L	M	I	R	A	N	T	E	F
S	E	K	U	F	K	P	S	O	W
T	E	L	M	I	R	A	N	T	E
R	A	I	N	O	L	A	C	W	B
O	O	K	K	M	A	R	S	I	R
L	T	E	H	Y	S	U	S	Z	Ú
A	I	S	D	Y	T	G	A	J	J
B	C	A	G	R	R	X	C	D	U
I	F	A	G	N	O	M	E	J	L
O	A	Z	T	E	C	A	S	M	A
S	L	Q	L	A	A	P	Z	V	B
A	V	C	O	L	O	N	I	A	S
G	K	L	C	I	I	E	Q	V	R
U	N	X	M	Z	O	D	L	B	B
C	A	R	A	B	E	L	A	A	S

2 Completa el crucigrama. Para ello, resuelve las pistas.

- Pistas:**
1. Valido de Felipe III, el duque de...
 2. Hernán Cortés fue un...
 3. Escritor importante de la literatura barroca. Su nombre es Miguel de...
 4. La ... dificultaba el comercio con América.
 5. Los protestantes se unieron y formaron la Liga de...
 6. Valido de Felipe IV, el conde-duque de...



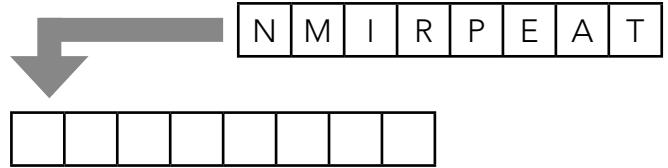
3 Representa en este mapamundi las rutas marítimas que creas que siguieron los españoles para llegar a América, África y Asia.



4 Diseña un cartel publicitario con un eslogan que promocione una exposición en el museo del Prado sobre Velázquez.



5 Resuelve el anagrama e indica qué invento provocó que la cultura en la Edad Moderna llegara a un mayor número de personas.



6 Ordena cronológicamente los reinados de los primeros Borbones en España.



A. Carlos III



B. Felipe V



C. Carlos IV



D. Fernando VI

.....
.....
.....
.....

7 En estas tres fotografías aparecen iglesias de estilo románico, gótico y renacentista. ¿Qué fotografía corresponde a cada estilo?



A.



B.



C.

8 Escribe una oración con cada una de estas palabras.



.....
.....
.....