

1

Nombre y apellidos: _____

Fecha: _____

Ciencias Sociales 3.º

Ficha
2

- 1** ¿En qué te fijarías para distinguir una roca de otra? Razona tu respuesta.

.....

.....

.....

- 2** Explica con tus palabras cómo averiguas el color de un mineral y su dureza.

.....

.....

.....

- 3** Imagina que tienes que construir tu propia casa. Selecciona los materiales que utilizarías indicando el uso que le darías.

.....

.....

.....



- 4** Encuentra en la sopa de letras los nombres de ocho rocas y minerales que utilizamos en la vida cotidiana como material de construcción o como elemento decorativo. A continuación, colócalo en su lugar correspondiente.

T	O	G	A	V	P	L	D	J	O
M	A	R	M	O	L	E	I	S	P
A	T	A	M	L	C	A	A	I	I
F	E	N	R	U	B	I	M	E	Z
A	G	I	R	N	E	E	A	A	R
L	A	T	I	C	U	O	N	G	R
G	L	O	A	I	S	R	T	A	A
B	A	S	A	L	T	O	E	T	I
R	F	A	R	C	I	L	L	A	B

Construcción	Decoración

1 Nombre y apellidos:

5 Observa las siguientes imágenes e indica si se trata de una cantera, una mina o una perforación. ¿En qué te has basado para descubrirlo? Razona tu respuesta.



.....

.....

.....

6 Investiga y completa la siguiente tabla:

Roca	Minerales	Descripción
Basalto		
Pizarra		Roca metamórfica de bajo grado y grano fino, que presenta foliación
	Cuarzo	
Mármol		
Carbón		Roca sedimentaria combustible, formada por la alteración de la vegetación

4 Averigua el nombre de un yacimiento (mina o cantera) de Andalucía y responde las siguientes cuestiones:

a) ¿En qué lugar se encuentra?

.....

b) ¿Se trata de cantera o mina?

.....

c) ¿Qué rocas y minerales se extraen o extrajeron de ellas?

.....

1 ¿Recuerdas algún paisaje natural en el que hayas estado? Dibújalo. Si no has estado en ninguno, invéntalo. Recuerda que debes incorporar los elementos que forman el paisaje: relieve, agua, vegetación y fauna...

2 Observa las siguientes imágenes. ¿De qué tipos de paisaje se trata? Realiza una breve descripción de ambos con los diferentes elementos que aparecen.



.....

.....

.....

.....

.....

.....

.....

.....

- 1 Investiga y rellena la siguiente ficha sobre el lugar donde vives.

Localidad	
Pueblo o ciudad	
Provincia	
Comunidad autónoma	
País	
Tipo de barrio	
Calle / plaza / avenida	
Número y letra	
Número de habitantes	

- 2 Realiza una breve descripción del lugar donde vives, indicando cómo son sus edificios, sus calles, plazas, monumentos, a qué se dedican sus habitantes.

.....

.....

.....

.....

.....

- 3 Busca en la sopa de letras 8 términos relacionados con los contenidos de la unidad.

A	Y	U	N	T	A	M	I	E	N	T	O
A	U	I	V	I	Y	U	P	E	S	Y	P
M	U	N	I	C	I	P	I	O	C	O	U
H	I	I	D	E	N	C	D	E	I	N	E
L	O	C	A	L	I	D	A	D	U	S	B
F	I	N	R	T	F	E	E	I	D	E	L
G	P	R	O	V	I	N	C	I	A	R	O
D	I	Y	T	R	R	A	N	M	D	J	C
B	A	R	R	I	O	U	C	A	L	L	E

.....

.....

.....

.....

.....

.....

.....

.....

- 4 Localiza en el mapa las siguientes provincias, comunidades autónomas o ciudades autónomas: Región de Murcia, Lleida, Teruel, Burgos, Comunidad de Canarias, Badajoz, Cádiz, Principado de Asturias, Comunidad de Madrid, Barcelona, Toledo, Sevilla, Zaragoza, Comunidad Foral de Navarra, ciudad autónoma de Ceuta.



- 5 Mediante flechas relaciona los términos de las dos columnas:

Provincia

Ciudad autónoma

Elementos visibles

Elementos ocultos

Servicios municipales

Comunidad autónoma

Ayuntamiento

Cables de electricidad

Recogida de basura

Léon

Acera

Melilla

Alcalde y alcaldesa y concejales y concejalas

Andalucía

- 1 En la tabla siguiente se recoge el número de nacimientos y de fallecimientos ocurridos en una localidad durante el primer semestre de un año. Fíjate en los datos y contesta a las preguntas:

Mes	Nacimientos	Fallecimientos
Enero	23	26
Febrero	18	19
Marzo	20	15
Abril	28	16
Mayo	17	20
Junio	19	19

a) ¿En qué mes se produjeron más nacimientos?

.....

b) ¿Y fallecimientos?

c) ¿En qué meses ha sido negativo el crecimiento natural de la población?

.....

d) ¿Y en qué meses ha sido positivo?

.....

e) ¿Ha aumentado la población de la localidad o ha disminuido en estos seis meses?

.....

- 2 Investiga y completa la siguiente tabla sobre la población y el trabajo de la localidad donde vives:

		% población
Población activa	Ocupada	
	No ocupada	
Población no activa		

- 3 Investiga y escribe:

a) El padrón municipal de tu localidad.

b) El censo de población de tú comunidad autónoma.

4 Nombre y apellidos: _____

- 4 Completa la tabla con las posibles causas y consecuencias de las características de la población española.

Características	Causas	Consecuencias
Distribución desigual		Desaparecen pueblos
Envejecimiento de la población	Nacen menos niños y niñas	
Elevada inmigración		
Población urbana		

- 5 Busca información sobre la población de tu localidad y completa la siguiente tabla.

Mes	Nacimientos	Fallecimientos	Inmigraciones	Emigraciones
Enero				
Febrero				
Marzo				
Abril				
Mayo				
Junio				
Julio				
Agosto				
Septiembre				
Octubre				
Noviembre				
Diciembre				
Total				

- a) Número de habitantes en el año anterior.
- b) Realiza una gráfica de barras con los datos obtenidos.
- c) ¿Cuál ha sido el crecimiento real en el año?

- 6 ¿Qué opinas de la inmigración? Explícalo brevemente.

.....

.....

.....

.....

1 Escribe utilizando milenios, siglos, décadas, lustros y años los siguientes acontecimientos.

- a) Año de tu nacimiento.
- b) Año en el que fuiste al colegio por primera vez.
- c) Año actual.

2 Busca información sobre los tipos de fuentes históricas. Después, anótalas según corresponda.

Fuente escrita	Fuente no escrita

¿Explica brevemente cómo las has clasificado?

.....

.....

3 Pregunta a tu familia por algún refrán, canción, trabalenguas... que conozcan y escríbelo. ¿Qué tipo de fuente histórica es?

.....

.....

.....

4 Observa las imágenes e indica a qué edades de la historia pertenece cada una de ellas.



- a)
- b)
- c)

5 Elige un monumento de tu localidad o comunidad y descríbelo. Si quieres, puedes pegar una imagen de él o dibujarlo.




Monumento:
.....
.....
.....
.....

6 Diseña tu propia línea del tiempo con los acontecimientos más importantes que han ocurrido en tu vida desde tu nacimiento hasta el momento actual. Puedes incluir dibujos e imágenes.




7 Un invento que ha hecho historia. Piensa en un invento que haya sido importante en la historia de la humanidad. Dibújalo y explica por qué consideras que es importante.



.....
.....
.....
.....
.....

8 Trozos de historia. Crea tu propia fuente histórica pegando en esta página algún trozo de historia. Por ejemplo, puedes pegar una moneda (o una fotocopia), el recuerdo de algún viaje, una entrada de cine o de teatro, una foto (o una fotocopia de ella), un sello, un trozo de periódico donde aparezca la fecha, puedes escribir un deseo, un pensamiento, etc.



- 1 ¿Imaginas como sería tu vida si vivieras en la prehistoria? Realiza una breve descripción sobre qué harías desde que te levantas hasta que te acuestas en esa época.

.....

.....

.....

.....

.....

- 2 Si pudieras trasladarte a través de una máquina del tiempo al pasado, ¿en qué época te hubiera gustado vivir? Razona tu respuesta.

.....

.....

.....

.....

.....

- 3 En la Edad Antigua aparecieron las primeras monedas. Observa la siguiente detenidamente y responde a las preguntas.

a) Descríbela brevemente.

.....

.....

.....



b) ¿En qué se parece a las actuales? ¿En qué se diferencia?

.....

.....

.....

4 Investiga el descubrimiento de América y completa la siguiente ficha.

Motivo del viaje	
Nombres de los tripulantes	
Financiación	
Nombres de los barcos	
Fecha y lugar de partida	
Fecha y lugar de llegada	
Otros datos de interés	

5 Durante la Edad Contemporánea se produjeron grandes revoluciones y guerras mundiales. Investiga sobre alguna de ellas y realiza una breve narración de lo ocurrido.

.....

.....

.....

.....

.....

6 Imagina que eres inventor. ¿Qué te gustaría inventar? ¿Por qué?

.....

.....

.....