

1

Nombre y apellidos:

Fecha:

Ciencias de la Naturaleza 1.º


Ficha
1

1 Colorea así:

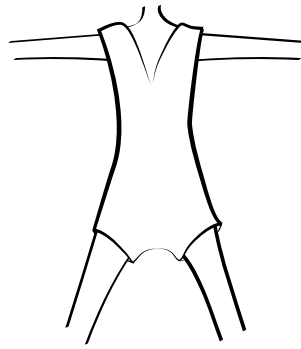
Rojo → Cabeza

Azul → Tronco

Verde → Extremidades



2 Dibuja las partes que faltan en cada dibujo.



3 ¿Cuántos sentidos tenemos? Colorea el número correcto.





2

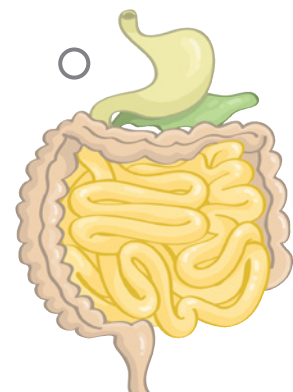
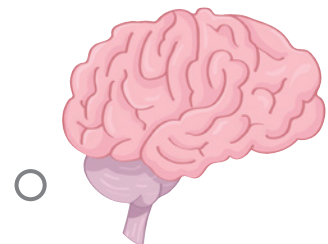
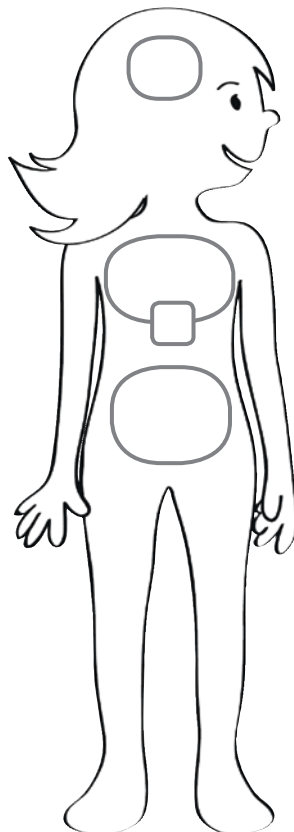
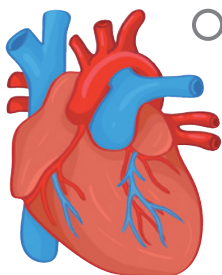
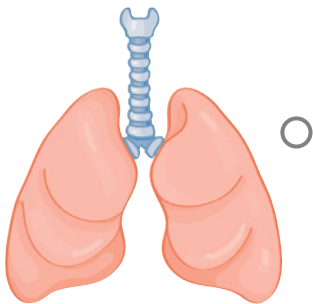
3

5

4 ¿Qué sentidos usan? Relaciona.



5 Relaciona cada parte del cuerpo con un lugar en la silueta de la niña.



6 Dibuja, dentro de esta silueta, las partes del esqueleto que faltan.

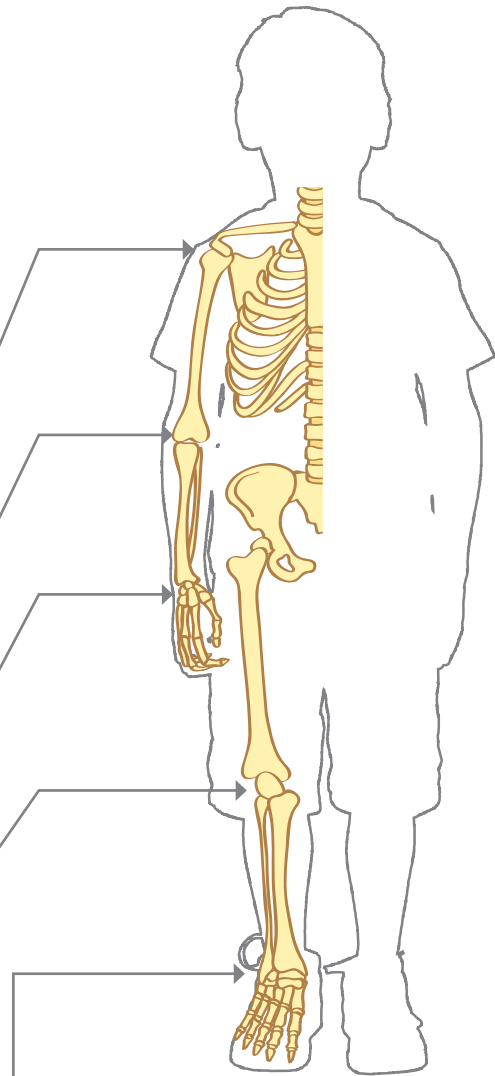
7 Repasa los nombres de las articulaciones señaladas.

hombro

codo

muñeca

rodilla



tobillo

8 Repasa la respuesta de esta adivinanza.



Mueven la cara, mueven los brazos,
mueven las piernas, mueven las manos,

Mueven los huesos de ella y de él;
se encogen y se estiran bajo nuestra piel.

músculos

2

Nombre y apellidos:

Fecha:

Ciencias de la Naturaleza 1.º

Ficha
1

1 Rodea los alimentos que hay que tomar a diario.



2 Escribe el número de comidas que hay que hacer al día.

3 Repasa los nombres de los objetos que protegen cuando se hace ejercicio y coloréalos.

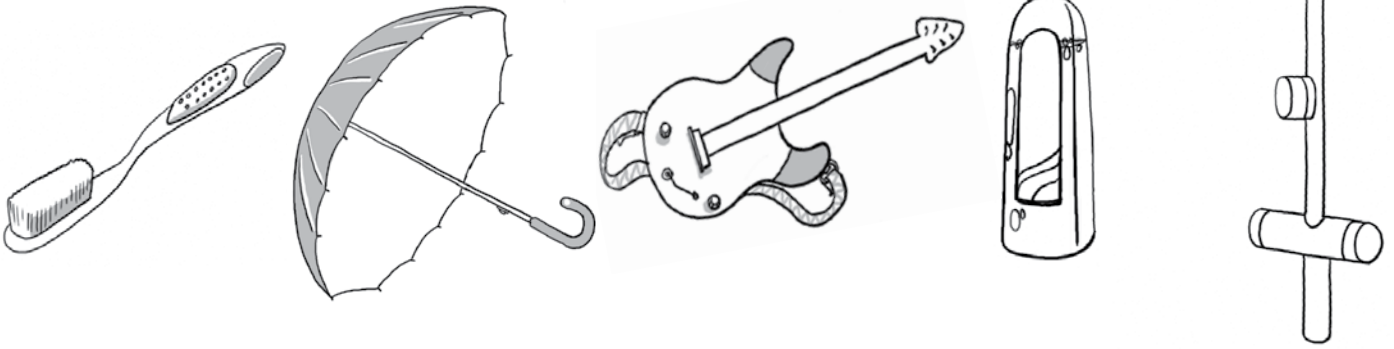
casco

coderas

rodilleras



4 Colorea lo que sirve para asearse.



5 ¿Qué hay que lavarse antes y después de comer? Escribe y colorea la respuesta.



Las

6 Colorea el número de horas que conviene dormir a tu edad.


5 10 2

7 Marca la escena en la que se está cuidando la salud.






8 ¿Qué crees que sienten? Une.



9 Observa y completa.

Para tener buena , hay que:



3

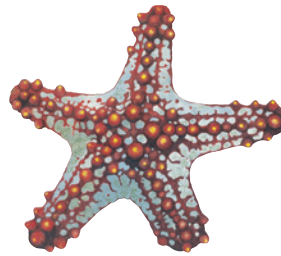
Nombre y apellidos:

Fecha:

Ciencias de la Naturaleza 1.º

Ficha
1

1 Rodea los seres vivos.




2 Dibuja:

un animal

una planta

un ser inerte



3 Completa la frase.

Los seres vivos , se y crecen, a lo que ocurretienen crías y .

4 Empieza por... Completa los nombres de estos seres vivos.



r




r




g



g



c



r

5 Escribe los nombres en la casilla correcta.



vibora



araña



tiburón



oca




sapo



mariposa



pulpo



estrella de mar

Vertebrados

Invertebrados

Four sets of horizontal lines for writing the names of vertebrates.

Four sets of horizontal lines for writing the names of invertebrates.

6 Relaciona con flechas.



Peces




Anfibios



Reptiles



Aves



Mamíferos




7 Dibuja estas tres escenas.


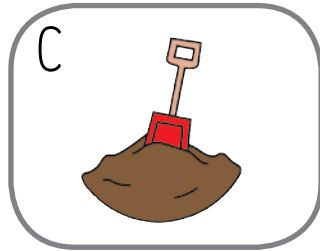


Una planta
nace de una
semilla.

Con agua, aire
y sol, la planta
crece y florece.

La planta
produce frutos
y semillas.



1 Escribe los nombres de los elementos de la naturaleza.



A. _____

C. _____

B. _____

D. _____

2 Dibuja dos seres vivos que formen parte de cada uno de estos medios.

Mar

Ciudad

Bosque



3 Copia los nombres de estos medios en su lugar.

Desierto

Ciudad

Polo

Mar




4 Dibuja la cadena alimentaria que indica el texto.

En esta pradera, las hierbas viven de la tierra,
del agua, del aire y del sol.

Los conejos comen hierba.

Las águilas se alimentan de conejos.

5 Escribe los nombres de estos animales en su lugar.



cerdo



oca



mariposa



ballena



gato



lagarto

Domésticos

Salvajes

6 Relaciona.



vaca



atún



pino



olivo

Silvestre

Doméstico

Salvaje



Cultivada



7 Relaciona daños y soluciones.

Daños

Soluciones



5

Nombre y apellidos: _____

Fecha: _____

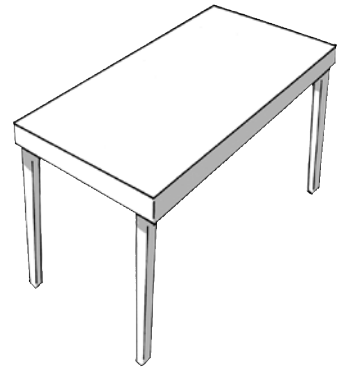
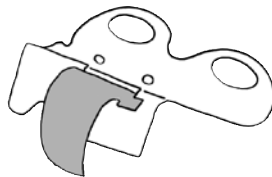
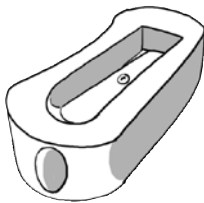
Ciencias de la Naturaleza 1.º _____

Ficha
1

- 1 Rodea de verde los objetos fabricados con materiales naturales y de rojo los fabricados con materiales artificiales.



- 2 Colorea los objetos hechos con materiales artificiales.



- 3 Relaciona.



Flexible



Rugoso



Transparente



4 Escribe el nombre de cada objeto en su lugar.



Blando



Liso



Rígido

5 Marca el vaso que está hecho con un material que no es transparente.





6 Escribe el nombre de un objeto fabricado con cada uno de estos materiales.

Madera:

Metal:

Lana:

7 Escribe el nombre de un objeto que pueda estar fabricado con diferentes materiales y dibújalo.



8 Observa y escribe el nombre del estado en el que se encuentra el agua en cada fotografía.



Two horizontal lines for writing the state of water in the first image.

Two horizontal lines for writing the state of water in the second image.

Two horizontal lines for writing the state of water in the third image.

9 Escribe el nombre de la energía que se representa en imágenes en su lugar.



Renovables

No renovables

Two horizontal lines for writing the name of renewable energy.

Two horizontal lines for writing the name of renewable energy.

Two horizontal lines for writing the name of non-renewable energy.

Two horizontal lines for writing the name of non-renewable energy.

10 Ordena y colorea el nombre de la forma de cuidar el medio ambiente que se representa.



A box containing the words 'reciclar' and 'reutilizar' separated by a horizontal line, with an arrow pointing from the images to it.

A small empty square box for coloring.

A small empty square box for coloring.

A small empty square box for coloring.

1 Escribe el nombre de cada máquina en su lugar.



Simples

Compuestas

2 Observa. ¿Qué acción se representa? Marca.



– Enroscar o desenroscar.

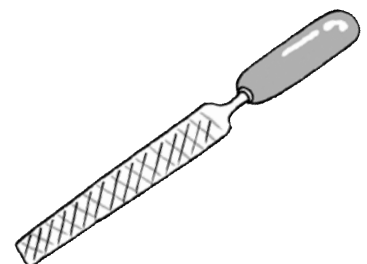
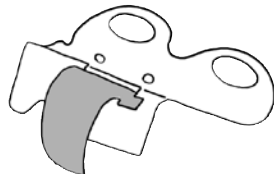
– Perforar.

– Girar y cerrar.

3 Colorea estas máquinas según el código:

Verde → Utilizan la fuerza humana.

Rojo → Utilizan la electricidad.




- 4 Adivina de qué máquina son estas piezas y escribe su nombre.



- 5 Rodea las máquinas que son electrodomésticos.



- 6 Si te dedicaras a la peluquería, ¿qué herramienta utilizarías más? Escribe su nombre y dibújala.



- 7 Lee y completa con **respetar** y **leer**.

Hay que _____ las normas de
uso de las máquinas y _____
su manual de uso.

8 Ordena estas máquinas para escribir, desde la más antigua a la más moderna.







9 Escribe el nombre de una máquina que nos ayuda a hacer cada una de estas tareas.

Lavar

Conservar alimentos

Transportar
objetos o personas

10 Escribe los nombres de las partes del ordenador que se señalan en la imagen.

